

**Kitabın Adı**

**Temel Kaynak Çalışma Defterim - 1**

**978-605-7911-60-5**

**Yayın Yönetmeni**

**Nebi NEMUTLU**

**Yazar**

**Komisyon**

**Editörler**

**Özen Eldem BÖREKÇİ**

**Elif NEMUTLU**

**Nursu NEMUTLU ÖZTÜRK**

**Dizgi Grafik Tasarımı**

**Ayşen KALÇIN**

**Mutlu Yayıncılık San. ve Tic. Ltd. Şti.**

**www.e-mutlu.com**

**Yayıncı Sertifika No.**

**10628**

**WPC Matbaacılık Sanayi ve Ticaret A.S.**

**Osmangazi Mah. Mehmet Kopuz Sk.**

**No.: 17/1 Kırış - Esenyurt**

**İSTANBUL**

**Matbaa Sertifika No.**

**35428**

**İstanbul, 2021**



**MUTLU  
YAYINCILIK**

**Yeni Nesil Sorularla**

**TEMEL KAYNAK**

**ÇALIŞMA DEFTERİM**

**Sınıf**

**1**



**MUTLU YAYINCILIK**

**Her hakkı ©Mutlu Yayıncılık'a aittir.  
Kısmen de olsa alıntı yapılamaz. Metin, soru,  
şekil ve grafikler, ELEKTRONİK, mekanik,  
FOTOKOPİ ya da herhangi bir kayıt sistemiyle  
çoğaltılamaz, yayımlanamaz.**



## İSTİKLÂL MARŞI

Korkma, sönmez bu şafaklarda yüzen al sancak;  
Sönmeden yurdumun üstünde tüten en son ocak.  
O benim milletimin yıldızıdır, parlayacak;  
O benimdir, o benim milletimindir ancak.

Çatma, kurban olayım, çehreni ey nazlı hilâl!  
Kahraman ırkıma bir gül! Ne bu şiddet, bu celâl?  
Sana olmaz dökülen kanlarımız sonra helâl...  
Hakkıdır, Hakk'a tapan, milletimin istiklâl!

**Mehmet Âkif ERSOY**





# İÇİNDEKİLER

## MATEMATİK

### ÜNİTE 1: Bölüm 1 / Uzamsal İlişkiler

- Etkinlik Uzamsal İlişkiler ..... 5

### ÜNİTE 1: Bölüm 2 / Tartma

- Etkinlik En Ağır, En Hafif..... 11
- Yeni Nesil Dikkat Geliştirme ..... 15

### ÜNİTE 2: Doğal Sayılar

- Etkinlik Sayıları Öğrenelim - Ritmik Saymalar ..... 17
- Etkinlik Azlık - Çokluk..... 19
- Etkinlik Onluk - Birlik..... 21
- Etkinlik Sıra Bildiren Sayılar ..... 25
- Yeni Nesil Dikkat Geliştirme ..... 27

### ÜNİTE 3: Bölüm 1 / Toplama İşlemi

- Etkinlik Toplama İşlemi ..... 29
- Etkinlik Toplama İşlemi Gerektiren Problemler .... 35
- Etkinlik Toplama İşleminde Sıfırın (0) Etkisi ..... 37
- Etkinlik Toplamları 10 Eden Sayılar..... 39
- Etkinlik Toplamları 20 Eden Sayılar..... 40
- Etkinlik Toplama İşleminde Verilmeyeni Bulma.... 41
- Yeni Nesil Dikkat Geliştirme ..... 45

### ÜNİTE 3: Bölüm 2 / Çıkarma İşlemi

- Etkinlik Doğal Sayılarla Çıkarma İşlemi ..... 47
- Etkinlik Çıkarma İşlemi Problemleri ..... 60
- Yeni Nesil Dikkat Geliştirme ..... 63

### ÜNİTE 4: Paralarımız

- Etkinlik Paralarımız ..... 65
- Yeni Nesil Dikkat Geliştirme ..... 71

### ÜNİTE 5: Bölüm 1 / Kesirler

- Etkinlik Kesirler ..... 73

### ÜNİTE 5: Bölüm 2 / Zaman Ölçme

- Etkinlik Tam ve Yarım Saatler ..... 77
- Etkinlik Gün, Hafta, Ay ..... 81

### ÜNİTE 5: Bölüm 3 / Geometrik Şekiller ve Cisimler

- Etkinlik Geometrik Şekiller ve Cisimler ..... 85

### ÜNİTE 5: Bölüm 4 / Örüntü ve Süslemeler

- Etkinlik Örüntü ve Süslemeler ..... 91
- Yeni Nesil Dikkat Geliştirme ..... 93

### ÜNİTE 6: Bölüm 1 / Veri Toplama ve Değerlendirme

- Etkinlik Tablo - Grafik ..... 95

### ÜNİTE 6: Bölüm 2 / Uzunluk Ölçme

- Etkinlik Uzunluk Ölçme ..... 99

### ÜNİTE 6: Bölüm 3 / Sıvıları Ölçme

- Etkinlik Sıvıları Ölçme..... 103
- Yeni Nesil Dikkat Geliştirme ..... 105

## TÜRKÇE

### TÜRKÇE

- Okuma Metni Doğuran Kazan ..... 107
- Etkinlik Harf Bilgisi ..... 109
- Okuma Metni Çatlak Kova ..... 113
- Etkinlik Hece Bilgisi ..... 114
- Okuma Metni Karagöz ve Hacivat ..... 121
- Etkinlik Satır Sonuna Sığmayan Sözcükler ..... 125
- Okuma Metni Kar Anlatıyor ..... 127
- Etkinlik Sözcük - Kelime Bilgisi ..... 129
- Etkinlik Sözcük Sırası ..... 130
- Okuma Metni Askerle Güreş ..... 131
- Etkinlik Sözcük - Kelime Bilgisi ..... 132
- Etkinlik Sözlük Anlamı..... 137
- Yeni Nesil Dikkat Geliştirme ..... 139
- Okuma Metni İkbaharın Ayları ..... 141
- Etkinlik Cümle Bilgisi ..... 143
- Etkinlik 5N 1K ..... 147

• <b>Etkinlik</b> Cümle Bilgisi .....	148
• <b>Okuma Metni</b> Acemi Bülbül .....	149
• <b>Etkinlik</b> Görsel Okuma .....	150
• <b>Etkinlik</b> Cümle Bilgisi .....	152
• <b>Etkinlik</b> Görsel Okuma .....	154
• <b>Yeni Nesil Dikkat Geliştirme</b> .....	155
• <b>Okuma Metni</b> Güvercin ile Karınca .....	157
• <b>Etkinlik</b> Olayların Oluş Sırası .....	158
• <b>Şiir</b> Hayvanlarla Tanışmak.....	161
• <b>Etkinlik</b> Eş Anımlı Sözcükler (Öğrenilmesi İsteğe Bağlı) .....	163
• <b>Yeni Nesil Dikkat Geliştirme</b> .....	167
• <b>Okuma Metni</b> Rüzgâr ile Güneş .....	169
• <b>Etkinlik</b> Zıt Anımlı Sözcükler (Öğrenilmesi İsteğe Bağlı) .....	170
• <b>Etkinlik</b> Eş Anımlı ve Zıt Anımlı Sözcükler (Öğrenilmesi İsteğe Bağlı) .....	173
• <b>Etkinlik</b> Noktalama İşaretleri .....	174
• <b>Okuma Metni</b> Oyun.....	177
• <b>Etkinlik</b> Adlar .....	179
• <b>Okuma Metni</b> Ne Güzelsin Sen Türkiye'm.....	183
• <b>Etkinlik</b> Yazım Kuralları .....	184
• <b>Şiir</b> Güz Türküsü.....	189
• <b>Etkinlik</b> Şiir Bilgisi .....	190
• <b>Yeni Nesil Dikkat Geliştirme</b> .....	193
• <b>Şiir</b> Temizlik .....	195
• <b>Etkinlik</b> Yönerge .....	196

## HAYAT BİLGİSİ

### ÜNİTE 1: Okulumuzda Hayat

• <b>Etkinlik</b> Fincanlar Kimin? .....	197
• <b>Etkinlik</b> Haydi Beni Bul! .....	198
• <b>Etkinlik</b> Güvenlik Kurallarına Uyalım.....	199
• <b>Etkinlik</b> Haydi Sınıfımızın Yerini Tarif Edelim! .....	200
• <b>Etkinlik</b> Sınıfta Neler Var?.....	201
• <b>Etkinlik</b> Okulumuzun Bölümleri (Bulmaca) .....	203

• <b>Etkinlik</b> Okulumuzda Kimler Çalışıyor?.....	204
• <b>Etkinlik</b> Kimden Yardım Almalıyız? .....	205
• <b>Etkinlik</b> Sınıfımızdaki Kurallar Nelerdir? .....	206
• <b>Etkinlik</b> Sihirli Sözcükler .....	207
• <b>Etkinlik</b> Şifre Ne? .....	208

### ÜNİTE 2: Evimizde Hayat

• <b>Etkinlik</b> Evimizde Hayat.....	209
• <b>Etkinlik</b> Evimizde Nezaket Kuralları .....	210
• <b>Etkinlik</b> Evimizde İletişim .....	212
• <b>Etkinlik</b> Doğru Mu? Yanlış Mı? .....	213
• <b>Etkinlik</b> Planlı Yaşam .....	214
• <b>Etkinlik</b> İstek Mi? İhtiyaç Mı? .....	215
• <b>Etkinlik</b> İhtiyaçlarımız ve İsteklerimiz .....	216

### ÜNİTE 3: Sağlıklı Hayat

• <b>Etkinlik</b> Kişisel Bakımımı Yapıyorum .....	217
• <b>Etkinlik</b> Sağlıklı Hayat .....	218
• <b>Etkinlik</b> Sağlığımızı Koruyalım .....	219
• <b>Etkinlik</b> Öğünlerimiz Nasıl Olmalı? .....	220
• <b>Etkinlik</b> Kendimize Salata Yapalım.....	221
• <b>Etkinlik</b> Şifre Ne? .....	224

### ÜNİTE 4: Güvenli Hayat

• <b>Etkinlik</b> Şifre Ne? .....	225
• <b>Etkinlik</b> Eşleştirmece .....	226
• <b>Etkinlik</b> Güvenli Mi? Güvenli Değil Mi?.....	227
• <b>Etkinlik</b> Kuralları Ne Kadar Biliyoruz? Bulmaca ....	228

### ÜNİTE 5: Ülkemizde Hayat

• <b>Etkinlik</b> Atatürk'ün Hayatı? Bulmaca.....	229
• <b>Etkinlik</b> Bayramlarımız.....	231
• <b>Etkinlik</b> Burası Neresi? Şifre Ne? .....	232
• <b>Etkinlik</b> Ülkemizin Güzellikleri .....	233

### ÜNİTE 6: Doğada Hayat

• <b>Etkinlik</b> Haydi Yaz!.....	235
• <b>Etkinlik</b> Bilin bakalım Ben Hangi Mevsimim? .....	238
• <b>Etkinlik</b> Doğa Olayları / Gök Cisimleri.....	239



Yanıt Anahtarı .....	240
----------------------	-----





- Aşağıdaki cümleleri görselden yararlanarak tamamlayınız.
- Kaydırak ile ağacın arasında \_\_\_\_\_ vardır.
- Ağacın arkasında \_\_\_\_\_ vardır.
- Uçurtması olan çocuğun size göre solunda \_\_\_\_\_ vardır.
- Sağdaki ağacın üstünde \_\_\_\_\_ vardır.
- Çiçeğin üstünde \_\_\_\_\_ vardır.
- Resimde en yüksekte görünen \_\_\_\_\_ dir.




- Arabanın içinde olan çocuğun balonunu **maviye**, arabanın dışında olan çocukların balonlarını **kırmızıya** boyayınız.



- Size göre ağacın sağındaki hayvanı işaretleyiniz.




- Size göre ağacın solundaki hayvanı işaretleyiniz.






- Görseli inceleyiniz. Meyvelerin buldukları konumlara göre doğru olan cümlelere "D", yanlış olan cümleleri "Y" yazınız.

- Nar tabağın dışındadır.
- Elma tabağın solundadır.
- Armut ile nar arasında elma vardır.
- Karpuzun size göre solunda çilek vardır.
- Karpuz tabağın dışındadır.
- Narın size göre solunda muz vardır.



- Resimdeki çocuğun size göre sağındaki hayvanı **kahverengiye**, solundaki hayvanı **sarıya**, önündeki hayvanı **maviye** boyayınız.







● Aşağıdaki görseli inceleyelim. Soruları görsele göre cevaplayalım.






Tablo sizin yönünüze göre okunacak.

- Kurbağanın bulunduğu kutudan başla. 2 kutu sağa, 2 kutu yukarı gittiğimizde hangi görsele ulaşırsınız?
- Kaplumbağadan 5 kutu sola gidip 1 kutu aşağısında hangi görsel vardır?
- Uğurböceğinin 1 kutu sol, 2 kutu aşağı gittiğimizde hangi görsele ulaşırsınız?
- Kaplumbağa resminden başlayarak →→→↑ kodlamasıyla hangi görsele ulaşırsınız?
- başlayarak 2 kutu yukarı 3 kutu sağa gidildiğinde, hangi görsele ulaşılır?
- Ağacın sağında \_\_\_\_\_ solunda \_\_\_\_\_ vardır.
- Evin sağında \_\_\_\_\_ solunda \_\_\_\_\_ vardır.

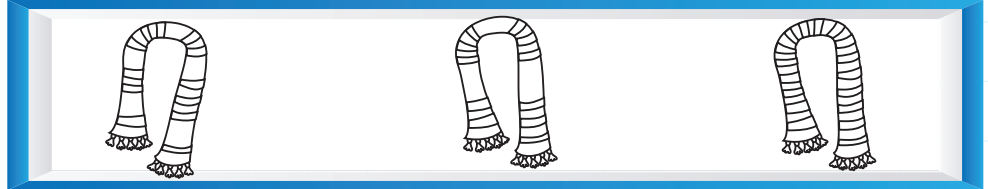



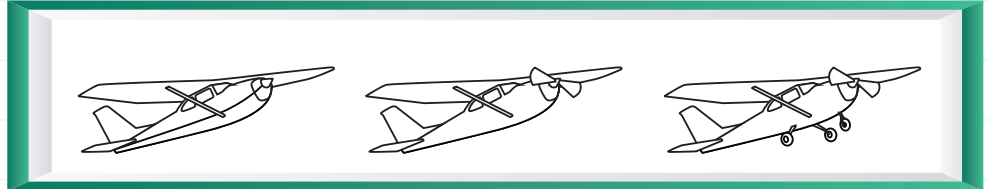




## ➡ EŞİNİ BULALIM

- Aşağıdaki eşyalardan birbirinin eşi olanları eşleştiriniz.



- Solda verilen resimlerin eşini sağdaki çizimlerden bularak aynı renge boyayınız.





## ➡ EŞİNİ BULALIM

- Resmi inceleyiniz. Eş olan nesnelere birbirleriyle eşleştiriniz.



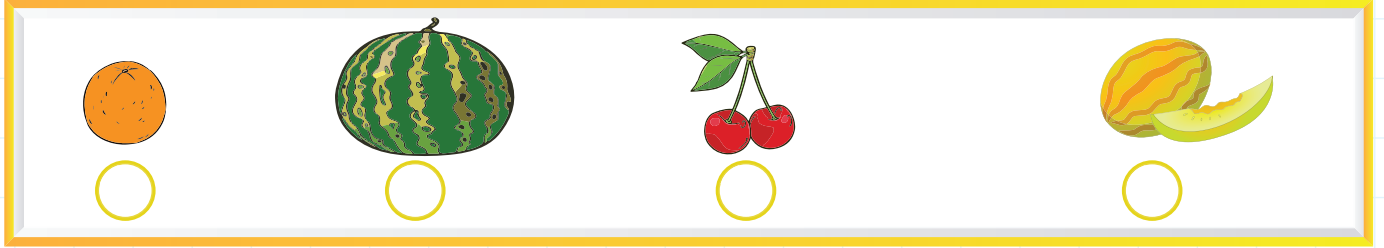


- Aşağıdaki odadaki eşyaların eşleri karışmış. Rakamlarla gösterilen eşyaların eşlerini bulup, aynı rakamlarla numaralandırınız.

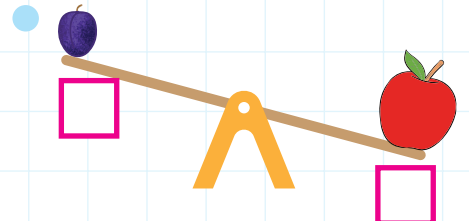
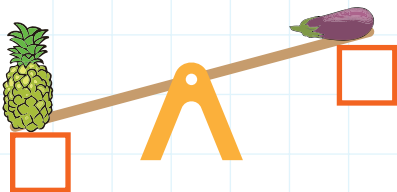
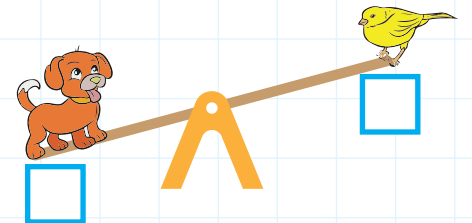
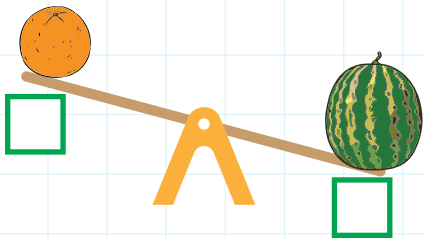




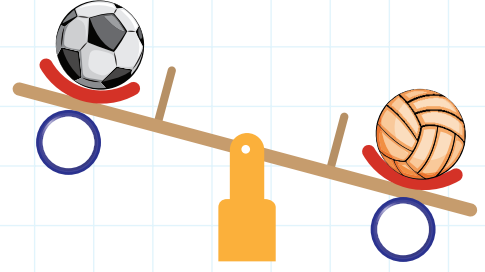
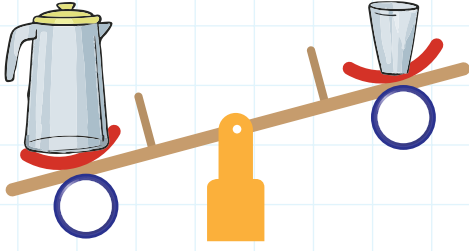
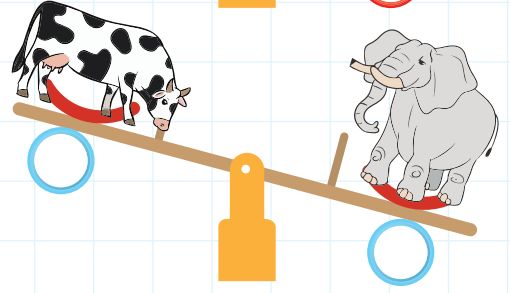
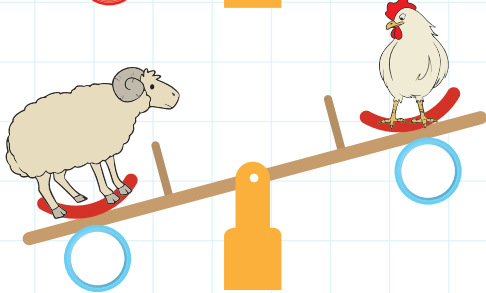

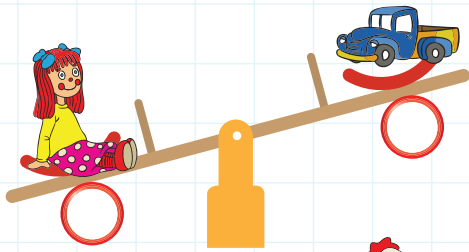
- Aşağıda verilenler ürünleri ağırdan hafife doğru sıralayınız. En ağıra 1, en hafife 4 yazınız.





- Aşağıdaki varlıklardan ağır olanın altına "A", hafif olanın altına "H" yazınız.



● Resimleri inceleyip daha ağır olan nesnelere işaretleyiniz.



● Resimleri inceleyiniz. Boşlukları "ağırdır, hafiftir" sözcüklerinden uygun olan ile tamamlayınız.





- Meltem, Emre'den \_\_\_\_\_
- Emre, Meltem'den \_\_\_\_\_

- Selin, Okan'dan \_\_\_\_\_
- Okan, Selin'den \_\_\_\_\_






- Resimleri inceleyiniz. Boşlukları “ağırdır, hafiftir” sözcüklerinden uygun olan ile tamamlayınız.

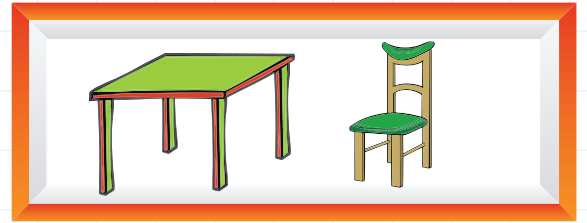


- İnek, koyundan \_\_\_\_\_
- Koyun, inekten \_\_\_\_\_
- Fil, aslandan \_\_\_\_\_
- Aslan, filden \_\_\_\_\_


- Resimleri inceleyiniz. Boşlukları “ağırdır, hafiftir” sözcüklerinden uygun olan ile tamamlayınız.




Taksi, bisikletten \_\_\_\_\_



Masa, sandalyeden \_\_\_\_\_



Koyun, inekten \_\_\_\_\_

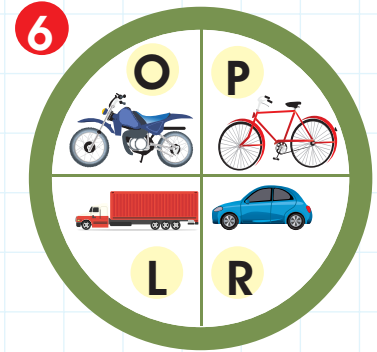
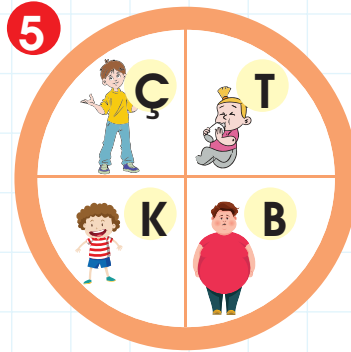
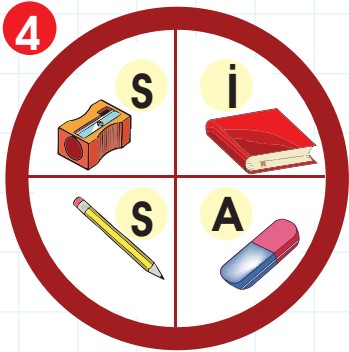
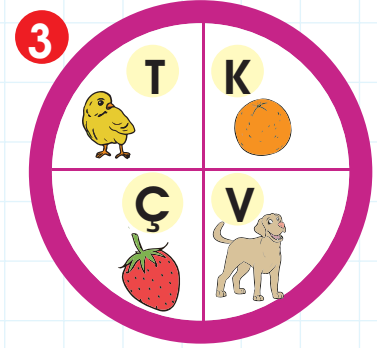
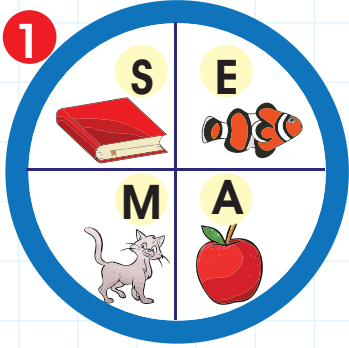


Ayakkabı, çoraptan \_\_\_\_\_

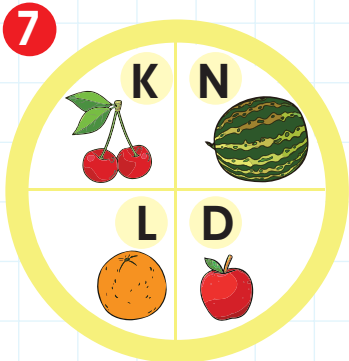


## ŞİFRE NE?

- Verilen şekillerdeki en ağır varlığı bulup işaretleyiniz. İşaretlediğiniz bölmedeki harfleri doğru sayıların olduğu kutulara yazınız. Şifreyi bulunuz.



Dünya'nın en ağır hayvanı hangisidir?

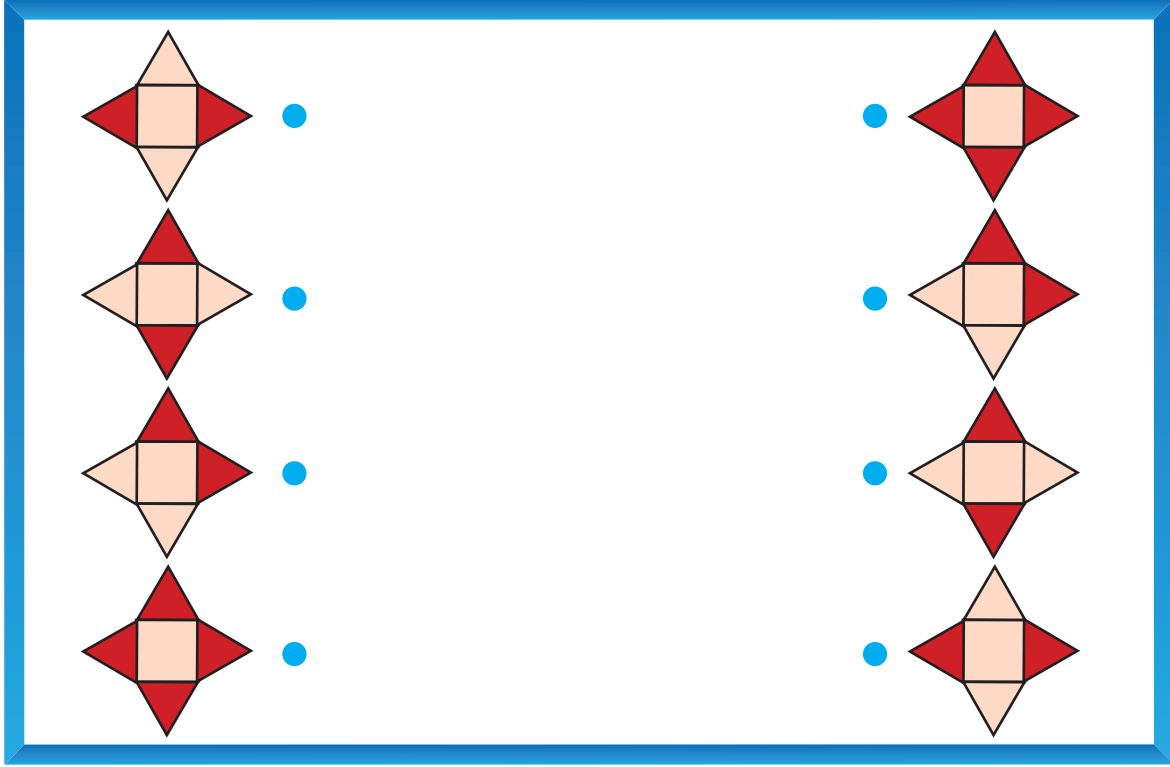


ŞİFRE:


1	2	3	4	5	2	6	4	7	2
<input type="text"/>	<input type="text"/>	<input type="text"/>	<input type="text"/>	<input type="text"/>	<input type="text"/>	<input type="text"/>	<input type="text"/>	<input type="text"/>	<input type="text"/>




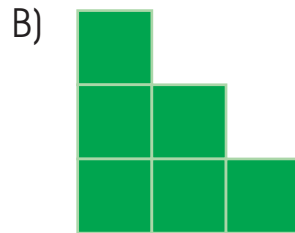

1. Birbirleriyle aynı olan görselleri eşleştiriniz.



2.



Yukarıdaki şeklin eksik parçası aşağıdakilerden hangisi olabilir?





1.

ŞİFRE →



17	Ç
20	K
13	L
15	O

Hayvanların kilogramları aşağıdaki gibidir.

Kedi 20 kilodur.

Sincap kediden 5 kg azdır.

Tavşan sincabın kilosundan 2 kg fazladır.

Buna göre yukarıdaki tabloya hayvanların kilosuna karşılık gelen harfler sırayla yazılırsa hangi sözcük oluşur?

A) ÇOK

B) KOÇ

C) KOL

2.



Yukarıdaki 1. ve 2. teraziler dengededir.

Bu dengelere göre, 4 elmanın karşısında, kaç tane nar olmalıdır?

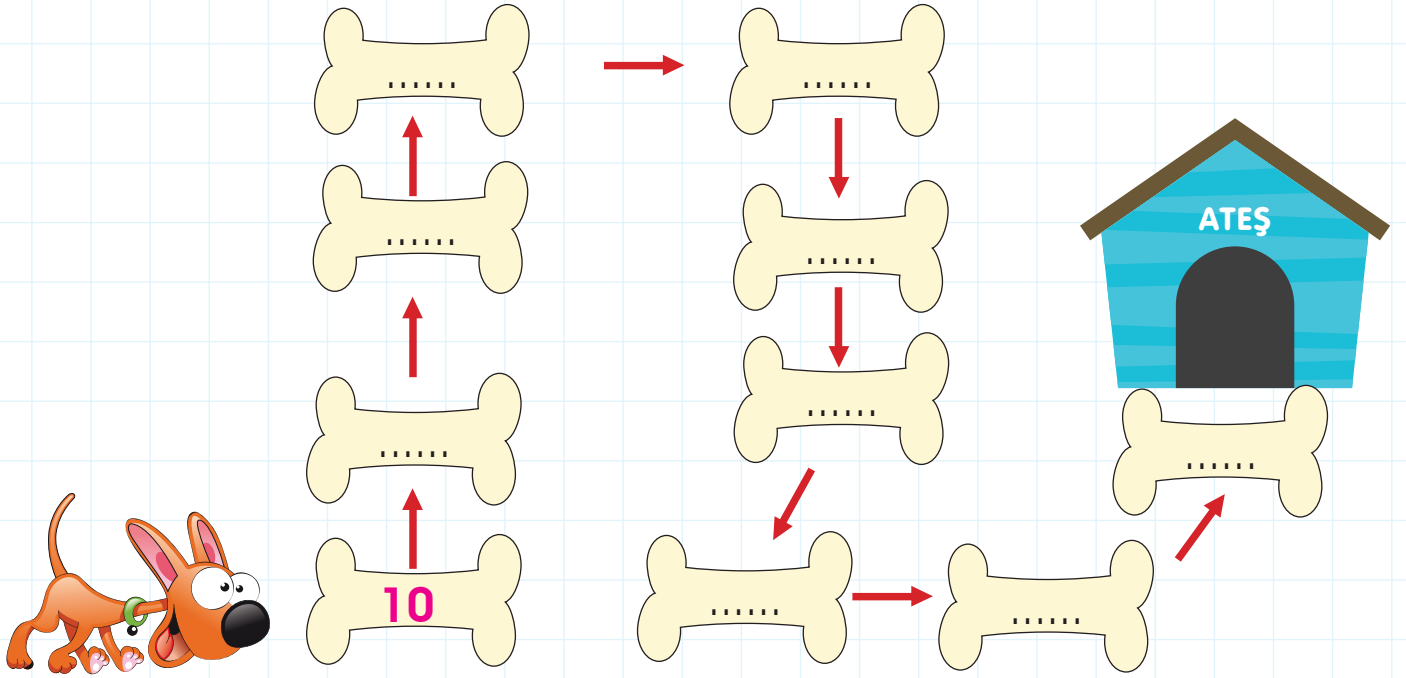
A)

B)

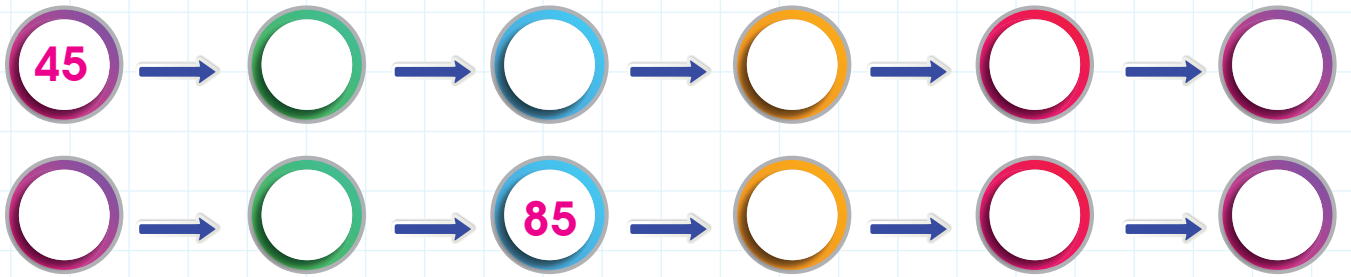
C)




- Köpek, kemikleri takip edip kulübesine ulaşacak. Onar onar sayarak köpeği kulübesine ulaştırınız.



- 45'ten başlayarak ileriye doğru beşer ritmik sayınız.

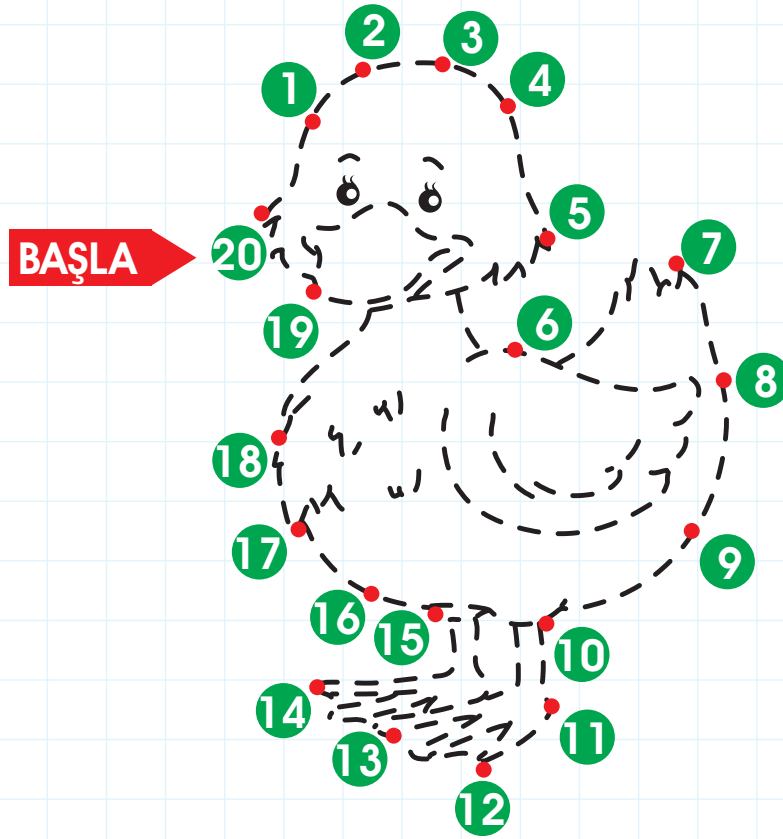


- Kirazları ikişer ritmik sayınız. Tüm kirazlar tabağa konulmuşsa tabakta olan kiraz sayısını yazınız.





- 20'den başlayarak geriye doğru birer ritmik sayınız. Noktaları birleştirip resmi boyayınız.





















- Aşağıda verilen yörüngelere göre eksik sayıları tamamlayıp yazınız.

İleriye ikişer ritmik sayma	4							18
Geriye birer ritmik sayma	15		13					
Geriye ikişer ritmik sayma	18				10			
İleriye birer ritmik sayma	9						15	




## ŞİFRE NE?

- Her sırada nesne sayısı çok olan seçeneği bulunuz. Bulduğunuz kutulardaki harfleri sırasıyla şifre kutusuna yazınız.


1	 A	 Ç	 Ö
2	 O	 L	 K
3	 A	 I	 K
4	 M	 L	 S
5	 U	 T	 M
6	 Ö	 Ü	 K

ŞİFRE:


● Aşağıdaki nesnelere inceleyiniz. Cümleleri doğru ifadelerle tamamlayınız.



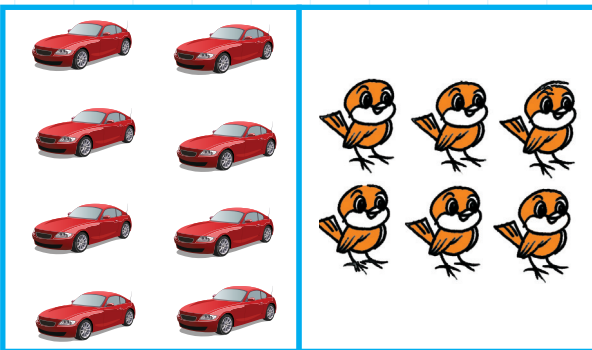
- 9 elma, 4 tırtıldan \_\_\_\_\_dir.
- 9 elma, \_\_\_\_\_ tırtıldan \_\_\_\_\_dir.
- Tırtıl sayısı, elma sayısından \_\_\_\_\_dir.
- Toplam \_\_\_\_\_ tane tırtıl vardır.



- \_\_\_\_\_ balık, \_\_\_\_\_ timsahtan fazladır.
- 12, 10'dan \_\_\_\_\_dir.
- \_\_\_\_\_ timsah \_\_\_\_\_ balıktan azdır.
- 10, 12'den \_\_\_\_\_dir.



- \_\_\_\_\_ adet tavşan vardır.
- \_\_\_\_\_ adet bilye vardır.
- \_\_\_\_\_ tavşan sayısı, \_\_\_\_\_ adet bilye sayısından \_\_\_\_\_dir.



- 8 \_\_\_\_\_ 6'dan.
- 6 azdır \_\_\_\_\_'den.
- 6 kuş sayısı, 8 araba sayısından \_\_\_\_\_.